

**MINISTERUL EDUCAȚIEI,  
CULTURII ȘI CERCETĂRII  
AL REPUBLICII MOLDOVA**

**AGENȚIA NAȚIONALĂ  
PENTRU CURRICULUM ȘI  
EVALUARE**

Район/ Муниципий

---

Место жительства

---

Учебное заведение

---

Фамилия, имя ученика

---

## ТЕСТ № 1

### МАТЕМАТИКА

#### ТРЕНИРОВОЧНЫЙ ТЕСТ НАЧАЛЬНОЕ ОБРАЗОВАНИЕ

февраль 2019 года

Время выполнения – 60 минут


Необходимые материалы: ручка с пастой синего цвета, линейка.



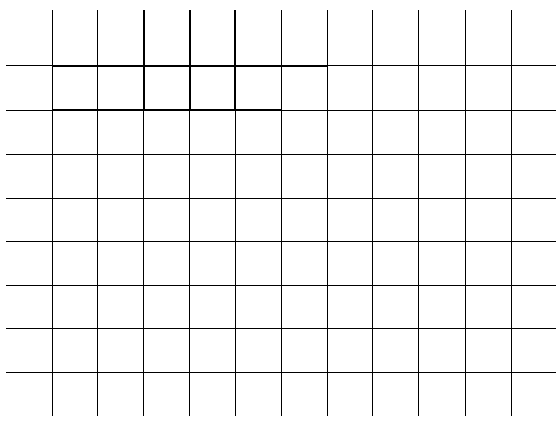
---

Памятка для ученика:

- Прочитай внимательно текст и аккуратно выполни предложенные задания.
  - Работай самостоятельно.
- 

***Желаем успеха!***

1.	<p>Какое из чисел, записанных ниже, читается как <i>шестьдесят тысяч шестьсот шестьдесят</i>? Обведи букву с правильным ответом.</p> <p><b>A.</b> 600 660      <b>B.</b> 60 660      <b>C.</b> 66 600      <b>D.</b> 60 606</p>	L01
2.	<p>Какое из чисел, записанных ниже, является наибольшим? Обведи букву с правильным ответом.</p> <p><b>A.</b> 70 506      <b>B.</b> 700 560      <b>C.</b> 7 560      <b>D.</b> 705 006</p>	L01
3.	<p>Рассмотри внимательно примеры, записанные ниже. Можно ли опустить скобки: да или нет? Обведи правильный ответ.</p> <p><b>а)</b> <math>624 + (324 + 98) = ?</math> <b>Да Нет</b>      <b>б)</b> <math>(420 + 568) : 8 = ?</math> <b>Да Нет</b></p>	L012
4.	<p>Укажи стрелкой, какое действие надо выполнить, чтобы найти число:</p> <p><b>в 4 раза больше, чем 8</b>    <b>на 4 больше, чем 8</b>    <b>в 4 раза меньше, чем 8</b></p> <p><math>8 + 4</math>      <math>8 - 4</math>      <math>4 \times 8</math>      <math>8 : 4</math></p>	L0123
5.	<p>Укажи стрелкой название каждой нарисованной геометрической формы:</p>  <p><b>прямоугольник</b>    <b>кубоид</b>    <b>незамкнутая кривая</b>    <b>замкнутая кривая</b>    <b>квадрат</b>    <b>куб</b></p>	L012345

6.	<p>Прочитай внимательно каждое предложение. Обведи букву <b>И</b>, если оно истинно, букву <b>Л</b>, если ложно.</p> <ul style="list-style-type: none"> <li>• Длина дороги может быть выражена в метрах. <b>И Л</b></li> <li>• Масса банки может быть измерена литрами. <b>И Л</b></li> <li>• Ёмкость аквариума может быть выражена в килограммах. <b>И Л</b></li> </ul>	L01 L01 L01				
7.	<p>Вычисли в столбик.</p> <p>а) <math>12\ 012 - 6\ 917</math></p>  <p>б) <math>600 \times 450</math></p>  <p>в) <math>1\ 260 : 8</math></p> 	L012 L012  L012				
8.	<p>Впиши пропущенные числа.</p> <p><input type="text"/> — 375 = 400      1 352 + <input type="text"/> = 10 352</p> <p><input type="text"/> : 1000 = 0</p>	L02 L02 L02				
9.	<p>Выяви закономерность составления ряда. Запиши следующее число в отведённом для него месте.</p> <table border="1" data-bbox="438 1564 1161 1627"> <tr> <td>2 500</td> <td>3 750</td> <td>5 000</td> <td><input type="text"/></td> </tr> </table>	2 500	3 750	5 000	<input type="text"/>	L02
2 500	3 750	5 000	<input type="text"/>			
10.	<p>Запиши в каждом кружочке подходящий знак сравнения (&lt;, =, &gt;).</p> <p>1 000 см <input type="radio"/> 1 м      50 леев <input type="radio"/> 5 000 банов</p> <p>1 км <input type="radio"/> 100 000 м      1 век <input type="radio"/> 1 000 лет</p>	L012 L012				

