

**MINISTERUL EDUCAȚIEI  
AL REPUBLICII MOLDOVA**

**AGENȚIA NAȚIONALĂ  
PENTRU CURRICULUM ȘI  
EVALUARE**

**Raionul**

**Localitatea**

**Instituția de învățământ**

**Numele, prenumele elevului**

## **TESTUL Nr. 2**

### **MATEMATICA**

**TEST PENTRU EXERSARE  
ÎNVĂȚĂMÎNTUL PRIMAR**

februarie 2017

Timp alocat – 60 de minute

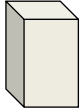


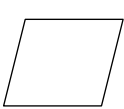

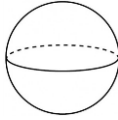
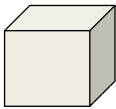
Rechizite și materiale permise: pix cu cerneală albastră, riglă.



Instrucțiuni pentru elevi:

- Citește cu atenție fiecare enunț și efectuează cu acuratețe operațiile solicitate.
- Lucrează independent.

***Îți dorim mult succes!***

## Matematică, clasa a IV-a. Test 2

1.	<p>Care dintre numerele de mai jos este format din 2 mii și 14 zeci? Încercuiește litera corespunzătoare răspunsului corect.</p> <p><b>A.</b> 200 014                      <b>B.</b> 2 014                      <b>C.</b> 2 140                      <b>D.</b> 3 400</p>	L_( )
2.	<p>Care este cel mai mic dintre numerele de mai jos?</p> <p><b>A.</b> 86 504                      <b>B.</b> 860 504                      <b>C.</b> 80 540                      <b>D.</b> 80 054</p>	L_( )
3.	<p>Care operație trebuie efectuată în ultimul rând pentru a rezolva exercițiul: <math>200 - 200 : (40 + 60) = ?</math> Încercuiește litera corespunzătoare răspunsului corect.</p> <p><b>A.</b> adunarea                      <b>B.</b> scăderea                      <b>C.</b> înmulțirea                      <b>D.</b> împărțirea</p>	L_( )
4.	<p>Observă cu atenție fiecare împărțire de mai jos. Încercuiește litera <b>A</b>, dacă o consideri efectuată corect, sau litera <b>F</b>, dacă o consideri efectuată greșit.</p> <ul style="list-style-type: none"> <li>• <math>0 : 5 = 0</math>    <b>A</b>    <b>F</b></li> <li>• <math>44 : 6 = 7, \text{ rest } 2</math>    <b>A</b>    <b>F</b></li> <li>• <math>3 : 8 = 0, \text{ rest } 8</math>    <b>A</b>    <b>F</b></li> </ul>	L01 L01 L01
5.	<p>Citește cu atenție fiecare propoziție de mai jos. Încercuiește litera <b>A</b>, dacă o consideri adevărată, sau litera <b>F</b>, dacă o consideri falsă.</p> <ul style="list-style-type: none"> <li>• <i>50 de secunde constituie jumătate de minut.</i>    <b>A</b>    <b>F</b></li> <li>• <i>Dacă este ora nouă dimineața, atunci peste 24 de ore va fi ora nouă seara.</i>    <b>A</b>    <b>F</b></li> <li>• <i>Adâncimea unui pahar poate fi măsurată cu rigla.</i>    <b>A</b>    <b>F</b></li> <li>• <i>Masa unei găleți cu apă poate fi exprimată în kilograme.</i>    <b>A</b>    <b>F</b></li> </ul>	L01 L01 L01 L01
6.	<p>Indică printr-o săgeată forma geometrică corespunzătoare fiecăreia dintre următoarele denumiri:</p> <p style="text-align: center;"><b>pătrat</b>                      <b>cub</b>                      <b>cuboid</b>                      <b>cerc</b>                      <b>sferă</b></p> <div style="display: flex; justify-content: space-around; align-items: center;">        </div>	L01 L01 L01 L01 L01

7.	<p>Calculează în coloniță, apoi scrie în caseta rezervată răspunsul obținut.</p> <p><b>a)</b> <math>11\ 014 - 928 =</math> <input type="text"/></p> <p><b>b)</b> <math>80 \times 309 =</math> <input type="text"/></p>  <p><b>c)</b> <math>56\ 042 : 6 =</math> <input type="text"/></p> 	L012 L012  L012				
8.	<p>Completează cu numerele care lipsesc.</p> <p><input type="text"/> : 800 = 800      <input type="text"/> - 1 505 = 505</p>	L02 L02				
9.	<p>Descoperă regula de formare a șirului. Scrie în caseta rezervată numărul care urmează.</p> <table border="1" data-bbox="403 1370 1133 1429"> <tr> <td>1 000 000</td> <td>10 000</td> <td>100</td> <td><input type="text"/></td> </tr> </table>	1 000 000	10 000	100	<input type="text"/>	L02
1 000 000	10 000	100	<input type="text"/>			
10.	<p>Scrie în fiecare cerc semnul de comparație corespunzător (&lt;, =, &gt;).</p> <p>100 m ○ 1 km      1 secol ○ 1 deceniu      1 m 1 cm ○ 11 cm</p>	L0123				

