

**MINISTERUL EDUCAȚIEI,
CULTURII ȘI CERCETĂRII
AL REPUBLICII MOLDOVA**

**AGENȚIA NAȚIONALĂ
PENTRU CURRICULUM ȘI
EVALUARE**

Raionul

Localitatea

Instituția de învățământ

Numele, prenumele elevului

TESTUL Nr. 2

MATEMATICA

**TEST PENTRU EXERSARE
ÎNVĂȚĂMÂNTUL PRIMAR**






februarie 2020
Timp alocat – 60 de minute

Rechizite și materiale permise: pix cu cerneală albastră, riglă.

Instrucțiuni pentru elevi:

- Citește cu atenție fiecare enunț și efectuează cu acuratețe operațiile solicitate.
 - Lucrează independent.
-

Îți dorim mult succes!

1.	<p>Care dintre numerele de mai jos se citește <i>patru sute patruzeci de mii patru</i> ? Încercuiește litera corespunzătoare răspunsului corect.</p> <p>A. 404 044 B. 400 444 C. 404 004 D. 440 004</p>	L 01
2.	<p>Care dintre numerele date este predecesorul numărului 110 560? Încercuiește litera corespunzătoare răspunsului corect.</p> <p>A. 110 559 B. 110 561 C. 109 560 D. 110 506</p>	L 01
3.	<p>Observă exercițiile . Pot fi omise parantezele în exercițiu: da sau nu? Încercuiește răspunsul corect.</p> <ul style="list-style-type: none"> • $724 + (424 + 78) = ?$ Da Nu • $(520 + 678) : 8 = ?$ Da Nu 	L01 L01
4.	<p>Subliniază fiecare calcul corect.</p> <p>$8 : 1 = 1$ $0 \times 8 = 0$ $1 : 8 = 0, \text{ rest } 1$ $0 : 8 = 0$ $100 \times 10 \times 0 = 1000$</p>	L0123
5.	<p>Indică prin săgeată forma geometrică cu care se aseamănă fiecare obiect:</p> <div style="display: flex; justify-content: space-around; align-items: center;">      </div> <p style="text-align: center;"> cerc pătrat dreptunghi sferă cub cuboid </p>	L012345

