

**MINISTERUL EDUCAȚIEI,
CULTURII ȘI CERCETĂRII
AL REPUBLICII MOLDOVA**

**AGENȚIA NAȚIONALĂ
PENTRU CURRICULUM ȘI
EVALUARE**

Район/ Муниципий

Место жительства

Учебное заведение

Фамилия, имя ученика

ТЕСТ № 2

МАТЕМАТИКА

ТРЕНИРОВОЧНЫЙ ТЕСТ НАЧАЛЬНОЕ ОБРАЗОВАНИЕ

февраль 2019 года
Время выполнения – 60 минут

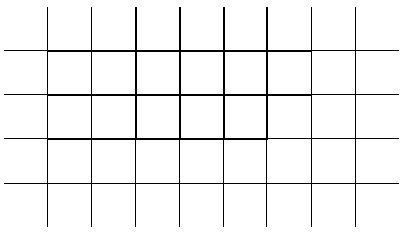


Необходимые материалы: ручка с пастой синего цвета, линейка.

Памятка для ученика:

- Прочитай внимательно текст и аккуратно выполни предложенные задания.
 - Работай самостоятельно.
-

Желаем успеха!

1.	<p>Какое из чисел, записанных ниже, является нечётным? Обведи букву с правильным ответом?</p> <p>A. 601 380 B. 63 801 C. 36 018 D. 30 186</p>	L01
2.	<p>Какое из чисел, записанных ниже, является наименьшим? Обведи букву с правильным ответом.</p> <p>A. 700 506 B. 700 560 C. 705 060 D. 705 006</p>	L01
3.	<p>Рассмотри внимательно примеры, записанные ниже. Можно ли опустить скобки: да или нет? Обведи правильный ответ.</p> <p>а) $624 - (324 + 98) = ?$ Да Нет б) $(584 + 496) : 8 = ?$ Да Нет</p>	L012
4.	<p>Укажи стрелкой, какое действие надо выполнить, чтобы найти:</p> <p>половину числа 20 удвоенное числа 20 число, на 2 меньше, чем 20</p> <p>$20 + 2$ $20 - 2$ 20×2 $20 : 2$</p>	L0123
5.	<p>Рассмотри геометрическую форму, нарисованную ниже, затем прочитай внимательно каждое предложение. Обведи букву И, если оно истинно, букву Л, если ложно.</p> <div style="display: flex; align-items: flex-start;"> <div style="margin-right: 20px;">  </div> <ul style="list-style-type: none"> • Это - куб. И Л • Это - геометрическое тело. И Л • У этой геометрической формы - 4 грани. И Л • У этой геометрической формы - 8 вершин. И Л • У этой геометрической формы - 12 сторон. И Л </div>	L01 L01 L01 L01 L01

6.	<p>Прочитай внимательно каждое предложение. Обведи букву И, если предложение истинно, или букву Л, если оно ложно.</p> <ul style="list-style-type: none"> • <i>Количество муки в стакане можно выразить в граммах.</i> И Л • <i>30 секунд составляют половину часа.</i> И Л • <i>Высоту дерева можно выразить в сантиметрах.</i> И Л 	L01 L01 L01				
7.	<p>Вычисли в столбик.</p> <p>а) 100 459 – 1 653</p>  <p>б) 70 × 580</p>  <p>в) 2 903 : 3</p> 	L012 L012 L012				
8.	<p>Впиши пропущенные числа.</p> <p>4 000 – <input type="text"/> = 400 <input type="text"/> + 20 = 20 000</p> <p>300 000 × <input type="text"/> = 0</p>	L02 L02 L02				
9.	<p>Выяви закономерность составления ряда. Запиши следующее число в отведённом для него месте.</p> <table border="1" data-bbox="467 1575 1193 1638"> <tr> <td>4 735</td> <td>3 725</td> <td>2 715</td> <td><input type="text"/></td> </tr> </table>	4 735	3 725	2 715	<input type="text"/>	L02
4 735	3 725	2 715	<input type="text"/>			
10.	<p>Запиши в каждом кружочке подходящий знак сравнения (<, =, >).</p> <p>1 век <input type="radio"/> 100 лет 10 дм <input type="radio"/> 1 м</p> <p>5 000 банов <input type="radio"/> 5 леев 200 м <input type="radio"/> 2 км</p>	L012 L012				

