

**MINISTERUL EDUCAȚIEI,
CULTURII ȘI CERCETĂRII
AL REPUBLICII MOLDOVA**

**AGENȚIA NAȚIONALĂ
PENTRU CURRICULUM ȘI
EVALUARE**

Район/ Муниципий

Место жительства

Учебное заведение

Фамилия, имя ученика

ТЕСТ № 2

МАТЕМАТИКА

ТРЕНИРОВОЧНЫЙ ТЕСТ НАЧАЛЬНОЕ ОБРАЗОВАНИЕ






февраль 2020 года
Время выполнения – 60 минут

Необходимые материалы: ручка с пастой синего цвета, линейка.

Памятка для ученика:

- Прочитай внимательно текст и аккуратно выполни предложенные задания.
 - Работай самостоятельно.
-

Желаем успеха!

1.	<p>Какое из чисел, записанных ниже, читается <i>четыреста сорок тысяч четыре</i>? Обведи букву, соответствующую верному ответу.</p> <p>A. 404 044 B. 400 444 C. 404 004 D. 440 004</p>	L 01
2.	<p>Какое из данных чисел является предыдущим числу 110 560 ? Обведи букву, соответствующую верному ответу.</p> <p>A. 110 559 B. 110 561 C. 109 560 D. 110 506</p>	L 01
3.	<p>Рассмотри примеры. Можно ли опустить скобки в каждом из примеров: да или нет? Обведи верный ответ.</p> <ul style="list-style-type: none"> • $724 + (424 + 78) = ?$ Да Нет • $(520 + 678) : 8 = ?$ Да Нет 	L01 L01
4.	<p>Подчеркни каждый верно решённый пример.</p> <p>$8 : 1 = 1$ $0 \times 8 = 0$ $1 : 8 = 0, \text{ост.}1$ $0 : 8 = 0$ $100 \times 10 \times 0 = 1000$</p>	L0123
5.	<p>Соедини стрелкой изображение каждого предмета с геометрической формой, на которую он похож:</p> <div style="display: flex; justify-content: space-around; align-items: center;">      </div> <p style="text-align: center;"> круг квадрат прямоугольник сфера куб кубоид </p>	L012345

6.	<p>Прочитай каждое утверждение. Обведи букву И, если считаешь утверждение истинным, а если считаешь его ложным, обведи букву Л.</p> <ul style="list-style-type: none"> • Длину аквариума можно выразить в метрах. И Л • Массу аквариума можно выразить в литрах. И Л • Ёмкость аквариума можно выразить в литрах И Л 	L01 L01 L01																																																																																																																																																																																																																												
7.	<p>Вычисли в столбик.</p> <p>a) $16\ 016 - 5\ 917$</p> <table border="1" style="margin-left: 20px;"> <tr><td> </td><td> </td><td> </td><td> </td><td> </td><td> </td><td> </td><td> </td><td> </td><td> </td></tr> <tr><td> </td><td> </td><td> </td><td> </td><td> </td><td> </td><td> </td><td> </td><td> </td><td> </td></tr> <tr><td> </td><td> </td><td> </td><td> </td><td> </td><td> </td><td> </td><td> </td><td> </td><td> </td></tr> <tr><td> </td><td> </td><td> </td><td> </td><td> </td><td> </td><td> </td><td> </td><td> </td><td> </td></tr> </table> <p style="margin-left: 350px;">b) 300×750</p> <table border="1" style="margin-left: 350px; margin-top: 20px;"> <tr><td> </td><td> </td><td> </td><td> </td><td> </td><td> </td><td> </td><td> </td><td> </td><td> </td></tr> <tr><td> </td><td> </td><td> </td><td> </td><td> </td><td> </td><td> </td><td> </td><td> </td><td> </td></tr> <tr><td> </td><td> </td><td> </td><td> </td><td> </td><td> </td><td> </td><td> </td><td> </td><td> </td></tr> <tr><td> </td><td> </td><td> </td><td> </td><td> </td><td> </td><td> </td><td> </td><td> </td><td> </td></tr> </table> <p style="margin-left: 200px;">c) $6\ 030 : 4$</p> <table border="1" style="margin-left: 200px; margin-top: 20px;"> <tr><td> </td><td> </td><td> </td><td> </td><td> </td><td> </td><td> </td><td> </td><td> </td><td> </td><td> </td><td> </td><td> </td><td> </td><td> </td><td> </td><td> </td><td> </td><td> </td><td> </td></tr> <tr><td> </td><td> </td><td> </td><td> </td><td> </td><td> </td><td> </td><td> </td><td> </td><td> </td><td> </td><td> </td><td> </td><td> </td><td> </td><td> </td><td> </td><td> </td><td> </td><td> </td></tr> <tr><td> </td><td> </td><td> </td><td> </td><td> </td><td> </td><td> </td><td> </td><td> </td><td> </td><td> </td><td> </td><td> </td><td> </td><td> </td><td> </td><td> </td><td> </td><td> </td><td> </td></tr> <tr><td> </td><td> </td><td> </td><td> </td><td> </td><td> </td><td> </td><td> </td><td> </td><td> </td><td> </td><td> </td><td> </td><td> </td><td> </td><td> </td><td> </td><td> </td><td> </td><td> </td></tr> <tr><td> </td><td> </td><td> </td><td> </td><td> </td><td> </td><td> </td><td> </td><td> </td><td> </td><td> </td><td> </td><td> </td><td> </td><td> </td><td> </td><td> </td><td> </td><td> </td><td> </td></tr> <tr><td> </td><td> </td><td> </td><td> </td><td> </td><td> </td><td> </td><td> </td><td> </td><td> </td><td> </td><td> </td><td> </td><td> </td><td> </td><td> </td><td> </td><td> </td><td> </td><td> </td></tr> <tr><td> </td><td> </td><td> </td><td> </td><td> </td><td> </td><td> </td><td> </td><td> </td><td> </td><td> </td><td> </td><td> </td><td> </td><td> </td><td> </td><td> </td><td> </td><td> </td><td> </td></tr> </table>																																																																																																																																																																																																																													L012 L012 L012
8.	<p>Впиши пропущенные числа.</p> <p><input type="text"/> — 2 002 = 202 90 + <input type="text"/> = 90 000</p>	L02 L02																																																																																																																																																																																																																												
9.	<p>Выяви правило составления числового ряда. Впиши пропущенное число.</p> <table border="1" style="margin-left: 100px;"> <tr> <td style="padding: 5px;">340 230</td> <td style="padding: 5px;">340 220</td> <td style="padding: 5px;">340 210</td> <td style="padding: 5px; width: 100px;"> </td> </tr> </table>	340 230	340 220	340 210		L02																																																																																																																																																																																																																								
340 230	340 220	340 210																																																																																																																																																																																																																												
10.	<p>Запиши в каждый кружок нужный знак сравнения (<, =, >).</p> <p>200 см <input type="radio"/> 20 м 20 леев <input type="radio"/> 200 банов</p> <p>2 века <input type="radio"/> 200 лет</p>	L0123																																																																																																																																																																																																																												

